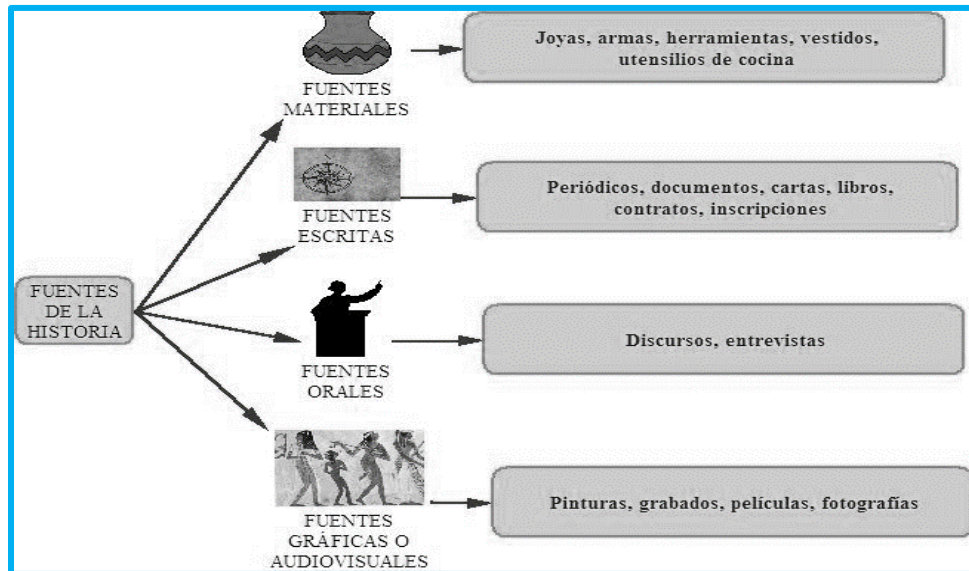




## COLEGIO REFOUS

ASIGNATURA DE HISTORIA. GRADO TERCERO

SEMANA DEL 16 DE MARZO AL 21 DE MARZO. PROFESORAS TERCERO DE PRIMARIA



1. Los estudiantes del grado 11 por motivo de la conmemoración de los 62 años del colegio desean recopilar en un libro la historia del colegio.
  - Dibuje la portada.
  - Mencione las fuentes de la historia podrán utilizar.



---

---

---

---

---

---

---

---

Es importante la siguiente explicación consignarla en el cuaderno.

### EL REGISTRO DEL TIEMPO



- *Todos los hechos transcurren en un orden.*
- *Todas las actividades que realizamos se cumplen en un tiempo determinado.*
- *El tiempo es muy valioso y lo debemos aprovechar. Para poderlo distribuir bien en todas las actividades que realizamos.*

**UN SEGUNDO ES LA UNIDAD DE MEDIDA DEL TIEMPO.**

## MEDIDAS DE TIEMPO

TIEMPO	CANTIDAD	NOMBRE
<b>Horas</b>	<b>24</b>	<b>Día</b>
<b>Días</b>	<b>7</b> <b>28 - 30- 31</b> <b>365 - 366</b>	<b>Semana</b> <b>Mes</b> <b>Año</b>
<b>Meses</b>	<b>2</b> <b>6</b> <b>12</b>	<b>Bimestre</b> <b>Semestre</b> <b>Año</b>
<b>Años</b>	<b>5</b> <b>10</b> <b>100</b> <b>1000</b>	<b>Lustro -o- Quinquenio</b> <b>Década</b> <b>Siglo</b> <b>Milenio</b>

### Ejemplo:

- + Camilo tiene una década y cuatro años  Camilo tiene 14 años.  
 + Mi abuelo tiene dos décadas menos que un siglo  Mi abuelito tiene 80 años.

### ACTIVIDAD

- De acuerdo a lo explicado, trabaja en el cuaderno.

#### 1. Averigua la edad que tiene cada personaje

Tengo siete décadas de edad

Tengo cinco lustros de edad

Tengo cuatro décadas y un lustro de edad

\_\_\_\_\_

\_\_\_\_\_

\_\_\_\_\_

2. Hoy es la fiesta de cumpleaños de Juliana, cumple 9 años. Su mamá tiene 28 años y le hizo una fiesta e Invitó a algunos de sus amigos. Patricia que tiene 11 años, Camila tiene 8 años y Pedro tiene 10 años.

Completa la información:

- La edad de Juliana es igual a \_\_\_\_\_ Lustros y \_\_\_\_\_ años.
- La edad de la mamá de Juliana son \_\_\_\_\_ décadas, \_\_\_\_\_ lustros y \_\_\_\_\_ años
- ¿Cuántos años le faltan a Camila para tener una década? \_\_\_\_\_
- La edad de Pedro es igual a \_\_\_\_\_.
- Tu edad: \_\_\_\_\_ lustros y \_\_\_\_\_ años



IMAGEN 1: <https://i.pinimg.com/originals/91/d9/b2/91d9b2f3ee69da998b8d87d6b93c7ed9.jpg>

IMAGEN2:[https://encrypted-tbn0.gstatic.com/images?q=tbn%3AAND9GcT20AT-\\_3c\\_V2g80POIRsSaxjtd1k66CU1GDVZwDQJgL6m5D4ck](https://encrypted-tbn0.gstatic.com/images?q=tbn%3AAND9GcT20AT-_3c_V2g80POIRsSaxjtd1k66CU1GDVZwDQJgL6m5D4ck)

BIBLIOGRAFIA: Manual de estudio taller 3. Ana Isabel Leal. 2008. Ed Futuro.